



Sens des opérations

Rechercher une donnée manquante dans le dessin. Identifier l'opération.

Problèmes

Fiche n°

lundi | mardi | mercredi | jeudi | vendredi | samedi | dimanche

/ /



Tenture les données utiles, je prends des informations dans le dessin, je dessine, puis je réponds.



Tenture les données utiles, je prends des informations dans le dessin, je dessine, puis je réponds.

Sens des opérations

Rechercher une donnée manquante dans le dessin. Identifier l'opération.

Problèmes

Fiche n°

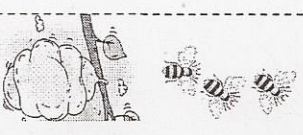
lundi | mardi | mercredi | jeudi | vendredi | samedi | dimanche

/ /



Tenture les données utiles, je prends des informations dans le dessin, je dessine, puis je réponds.

Tenture les données utiles, je prends des informations dans le dessin, je dessine, puis je réponds.

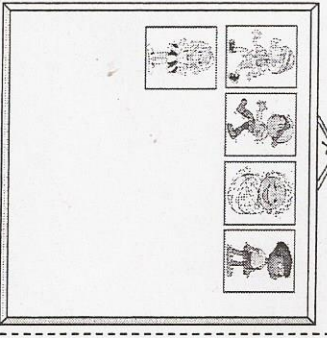


Il y avait 8 abeilles.

Combien d'abeilles se sont cachées dans la ruche ?

Il y a _____ abeilles dans la ruche.

2

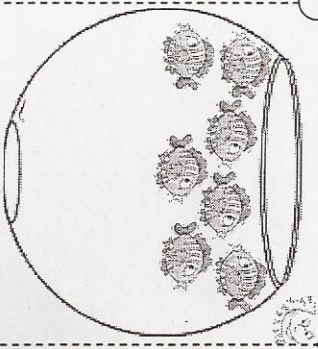


Dans ce cadre il y a déjà des photos. Charli en ajoute 6.

Combien de photos y aura-t-il dans le cadre ?

Il y aura _____ photos.

3



Dans ce bocal, il y avait 11 poissons. Cette nuit le chat en a mangé.

Combien de poissons manque-t-il ?

Il manque _____ poissons.

Problèmes fiche 14 CP

1

Pour valider : Regarde ta leçon

Utilise des outils (Ruler, bouches...)



Sens des opérations

Rechercher une donnée manquante dans le dessin. Identifier l'opération.

Problèmes

Fiche n°

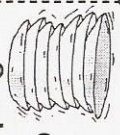
lundi | mardi | mercredi | jeudi | vendredi | samedi | dimanche

/ /



Tenture les données utiles, je prends des informations dans le dessin, je dessine, puis je réponds.

Tenture les données utiles, je prends des informations dans le dessin, je dessine, puis je réponds.

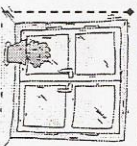


Noé fait 2 piles d'assiettes, comme celle-ci.

Combien lui faut-il d'assiettes ?

Il faut _____ assiettes.

2

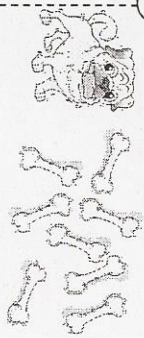


Paul construit une maison avec 4 fenêtres, comme celle-ci.

Combien de vitres va-t-il poser ?

Il va poser _____ vitres.

3



Dans la boîte il y avait 20 os.

Combien d'os reste-t-il dans la boîte ?

Il reste _____ os.

Problèmes fiche 16 CP

1

Pour valider : Regarde ta leçon

Utilise des outils (Ruler, bouches...)