

Sens des opérations
Identifier l'opération.

Problèmes
Fiche n° / /

lundi mardi mercredi jeudi vendredi samedi dimanche

Tenture dans le texte les données importantes.
Je colorie le bon signe de l'opération.



1 Noé achète un ballon à 12 €, il avait 20 € dans son porte-monnaie.

▼ Combien lui reste-t-il maintenant ?

+ -



2 Dans le car de Max, il y avait 10 enfants. A l'arrêt suivant 4 enfants montent dans le car.

▼ Combien d'enfants y a-t-il dans le car ?

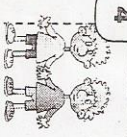
+ -



3 Marine a 8 €, sa mamie lui donne 10 € pour son anniversaire.

▼ Combien d'argent a-t-elle maintenant ?

+ -



4 Timéo a 12 €, son frère Matéo en a autant.

▼ Combien d'argent ont-ils ensemble ?

+ -



5 Léo a compté 20 merles dans l'arbre. 7 merles s'envolent.

▼ Combien en reste-t-il dans l'arbre ?

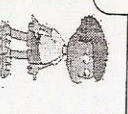
+ -



6 Léa a apporté un paquet de 16 bonbons. Elle donne 5 bonbons à sa sœur Noa.

▼ Combien Léa a-t-elle de bonbons maintenant ?

+ -



7 Dans le car de Max, il y a 25 sièges. 12 enfants sont déjà assis.

▼ Combien reste-t-il de places libres ?

+ -

Problèmes fiche 9 CP système.

Pour l'aider : Regarde la leçon Utilise des outils (ru, bouchette...)

Sens des opérations
Identifier l'opération.

Problèmes
Fiche n° / /

lundi mardi mercredi jeudi vendredi samedi dimanche


Tenture dans le texte les données importantes.
Je colorie le bon signe de l'opération.



1 Noé a 8 billes, son père lui achète un paquet de 12 billes.

▼ Combien en a-t-il maintenant ?

+ -



2 Max achète un livre à 5 € et un album à 8 €.

▼ Combien va-t-il payer ?

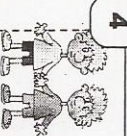
+ -



3 Marine a 8 €, elle achète un livre à 4 €.

▼ Combien lui reste-t-il d'argent maintenant ?


+ -



4 Timéo a 20 crayons dans sa trousse, il en donne 8 à son frère Matéo.

▼ Combien reste-t-il de crayons à Timéo ?


+ -



5 Dans la classe de Max il y a 25 élèves. 5 élèves sont absents aujourd'hui.

▼ Combien y a-t-il d'élèves en classe ?

+ -



6 Léa 7 billes et Noa a 12 billes.

▼ Combien ont-elles de billes ensemble ?

+ -



7 Dans le réfrigérateur il y avait 8 crèmes au chocolat. Lou mange 3 crèmes.

▼ Combien reste-t-il de crèmes ?

+ -

Problèmes fiche 8 CP système.

Pour l'aider : Regarde la leçon Utilise des outils (ru, bouchette...)