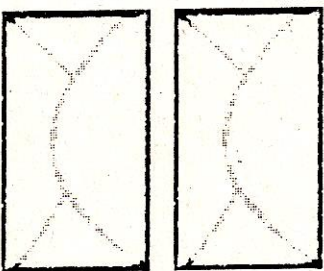




1 **J'entoure dans le texte ce que je vais dessiner. Je complète le dessin, puis je réponds.**



Léna a un paquet de 12 images. Elle met autant d'images dans chacune des **2 enveloppes**.

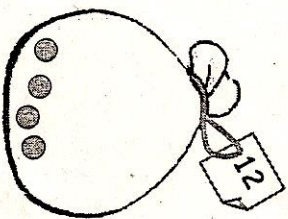
Combien d'images y aura-t-il par enveloppe ?

* Il y aura images

2 Il faut 12 billes dans le sac. Mathys a déjà mis **4 billes**.

Combien en manque-t-il ?

* Il manque billes




3 Maman distribue 12 gâteaux à ses **3 enfants**.

Combien vont-ils avoir de gâteaux chacun ?

* Chaque enfant aura gâteaux



1 **J'entoure dans le texte ce que je vais dessiner. Je complète le dessin, puis je réponds.**



8 oiseaux se sont posés dans l'arbre. 5 oiseaux vont s'envoler.

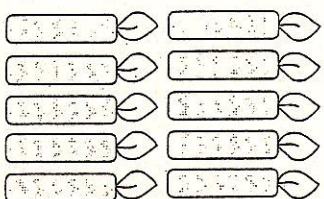
Combien en restera-t-il dans l'arbre ?

* Il restera oiseaux

2 Lyloa a allumé **10 bougies** pour son anniversaire, elle souffle mais n'éteint que 7 bougies.

Combien de bougies restent allumées ?

* Il reste bougies allumées



3 Dans la tirelire il y avait 9 €. Jules a pris 3€ pour s'acheter un livre.

Combien reste-t-il dans la tirelire ?

* Il reste €.

