




Sens des opérations
Représenter une situation.
Identifier l'opération.

Problèmes
Fiche n° / /

lundi mardi mercredi jeudi vendredi samedi dimanche

1   

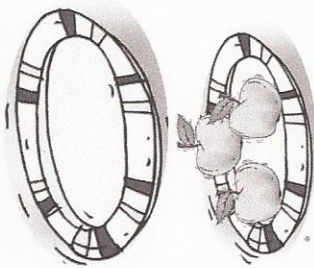
J'entoure dans le texte ce que je vais dessiner, je complète le dessin, puis je réponds.

Dans une assiette, il y a **3 pommes**, dans l'autre il y a 4 poires.

♥ Combien de fruits y a-t-il en tout ?

◆



✦ Il y a 7 fruits.



Sens des opérations
Représenter une situation.
Identifier l'opération.

Problèmes
Fiche n° / /

lundi mardi mercredi jeudi vendredi samedi dimanche

2   

J'entoure dans le texte ce que je vais dessiner, je complète le dessin, puis je réponds.

Mathys a **3 chats**, 2 chiens et 3 hamsters.

♥ Combien d'animaux a-t-il en tout ?

◆




✦ Il a 8 animaux.



Sens des opérations
Représenter une situation.
Identifier l'opération.

Problèmes
Fiche n° / /

lundi mardi mercredi jeudi vendredi samedi dimanche

3   


J'entoure dans le texte ce que je vais dessiner, je complète le dessin, puis je réponds.

Dans la tirelire il y avait **6 €**. Lily a perdu une dent et la petite souris lui a déposé 4€ sous l'oreiller.

♥ Combien d'argent a-t-elle maintenant ?

◆




✦ Lily a 2 €.



Sens des opérations
Représenter une situation.
Identifier l'opération.

Problèmes
Fiche n° / /

lundi mardi mercredi jeudi vendredi samedi dimanche

1   

J'entoure dans le texte ce que je vais dessiner, je complète le dessin, puis je réponds.

Loane a 13 photos, elle en donne 4 à Léna.

♥ Combien a-t-elle de photos maintenant ?




◆

✦ Loane a 9 photos.

Sens des opérations
Représenter une situation.
Identifier l'opération.

Problèmes
Fiche n° / /

lundi mardi mercredi jeudi vendredi samedi dimanche

2   

J'entoure dans le texte ce que je vais dessiner, je complète le dessin, puis je réponds.

Maman a 8 roses dans son vase, papa lui apporte un bouquet de 7 roses.

♥ Combien de roses a-t-elle maintenant ?




◆

✦ Elle a maintenant 15 roses.

Sens des opérations
Représenter une situation.
Identifier l'opération.

Problèmes
Fiche n° / /

lundi mardi mercredi jeudi vendredi samedi dimanche

3   

J'entoure dans le texte ce que je vais dessiner, je complète le dessin, puis je réponds.

10 enfants vont se promener dans le parc, il y a 4 garçons.

♥ Combien y a-t-il de filles ?

◆

✦ Il y a 6 filles.