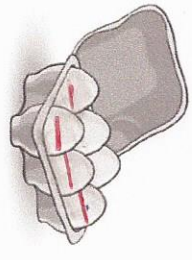




1 **Problème**  
Tenture dans le texte ce que je vais dessiner, je complète le dessin, puis je réponds.




Dans ma boîte, il y a 6 œufs. Louane prend 4 œufs pour faire un gâteau.

Combien restera-t-il d'œufs ?

$6 - 4 = 2$

Il y restera 2 œufs.

2



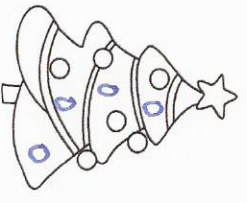
Dans ce pommier, il y a 8 pommes, Bial prend 3 pommes pour faire une tarte.

Combien restera-t-il de pommes dans l'arbre ?

$8 - 3 = 5$

Il restera 5 pommes.

3



Dans ce sapin, il y a 6 boules, Ethan a encore 4 boules à mettre.


Combien y aura-t-il de boules dans le sapin ?

$6 + 4 = 10$

Il y aura 10 boules.



1 **Problème**  
Tenture dans le texte ce que je vais dessiner, je complète le dessin, puis je réponds.




Kylian a 12 cartes, il en donne 4 à son ami.

Combien a-t-il de cartes maintenant ?

$12 - 4 = 8$

Il a 8 cartes.

2



Yanis a 8 cerises, il en mange 3.

Combien lui en reste-t-il ?

$8 - 3 = 5$

Il lui reste 5 cerises.

3



Timéo a dans sa trousse 4 crayons verts, 3 crayons rouges et 6 crayons jaunes.

Combien a-t-il de crayons ? je compte tout

$4 + 3 + 6 = 13$

Il a 13 crayons.

couverture problèmes