

1 Nombres et quantités : de 0 à 70


Aide-toi des étiquettes pour écrire les nombres

66	soixante - six
58	cinquante - huit
62	soixante - deux



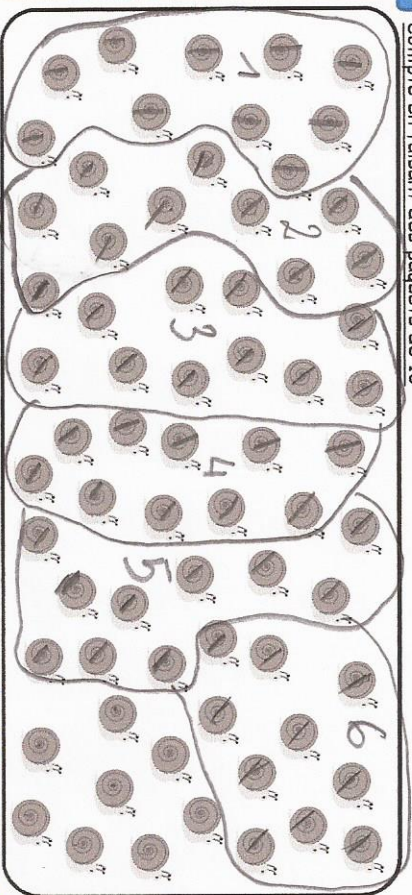
- deux
- six
- huit
- cinquante
- soixante

2 Complète



1 Nombres et quantités : de 0 à 70

1 Compte en faisant des paquets de 10



	68

six boîtes de 10  
huit cents seuls

1 Nombres et quantités : de 0 à 70

Aide-toi des étiquettes pour écrire les nombres

65	soixante - cinq
59	cinquante - neuf
63	soixante - trois



- trois
- cinq
- neuf
- cinquante
- soixante

2 Ecris les nombres dans l'ordre décroissant du plus grand au plus petit :

59 - 69 - 55 - 24 - 35 - 49


- 69
- 59
- 55
- 49
- 35
- 24

1 Nombres et quantités : de 0 à 70

1 Complète le tableau des nombres

	21			25				29
		32				36		38
	41	42		44				
50			53		55		57	
60				65				68
								69

2 Trouve combien Arthur a d'argent dans sa tirelire :



$20 + 20 + 10 + 10 = 60$   
6 dizaines et  $2 + 2 + 1 + 1 = 6$  unités