

**1 Nombres et quantités: de 0 à 80**


Aide-toi des étiquettes pour écrire les nombres

79	soixante-dix-neuf
68	soixante-huit
72	soixante-deux




- huit
- neuf
- douze
- dix
- soixante

**2** Complète +2



**1 Nombres et quantités: de 0 à 80**

Compte en faisant des paquets de 10




	78
--	----

**1 Nombres et quantités: de 0 à 80**

Aide-toi des étiquettes pour écrire les nombres

75	soixante-quinze
69	soixante-neuf
77	soixante-dix-sept



- sept
- neuf
- quinze
- dix
- soixante

**2** Ecris les nombres dans l'ordre décroissant, du plus grand au plus petit:

69 - 79 - 65 - 34 - 45 - 59




- 
- 
- 
- 
- 
- 

**1 Nombres et quantités: de 0 à 80**

Complète le tableau des nombres

	31			35			39
		42				46	
	51	52		54			48
60			63		65		67
				75			78
70						78	79

**2** Trouve combien Arthur a d'argent dans sa tirelire:



$20 + 20 + 20 + 10 = 70$

$2 + 2 + 2 = 6$

$70 + 6 = 76$