


1 Nombres et quantités : de 0 à 70

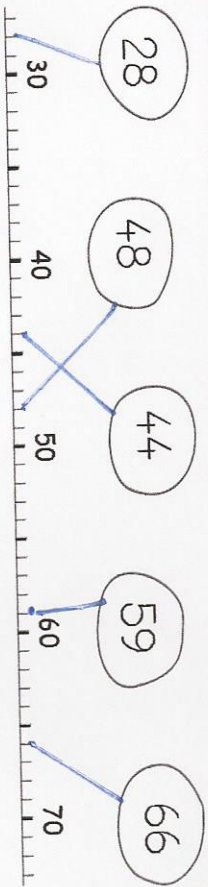
Complète avec le bon nombre :

2 Complète la bande numérique:



1 Nombres et quantités : de 0 à 70

Relie les nombres à leur place sur la droite graduée




2 Dessine le nombre en barres

1 Nombres et quantités : de 0 à 70

Complète avec le bon nombre :

2 Complète la bande numérique:



1 Nombres et quantités : de 0 à 70

Complète les cases grises du tableau des nombres

	21		24			
30	32			36		39
	42			46		
50		53		55		
	61			67		
			58			69

2 Colorie les pièces et billets correspondants à la somme dans la tirelire :

4 dizaines 20 + 10 + 10 3 unités 2 + 1 = 3