

1 Colorie les nombres identiques de la même couleur :

soixante-trois	soixante-quatorze	soixante-et-onze	soixante-treize	soixante-dix-huit	soixante-quatre
74	73	78	63	68	64
60 + 18	60 + 11	60 + 3	60 + 1	60 + 4	60 + 13
60 + 18	60 + 11	60 + 3	60 + 1	60 + 4	60 + 14

2 Complète ces additions :

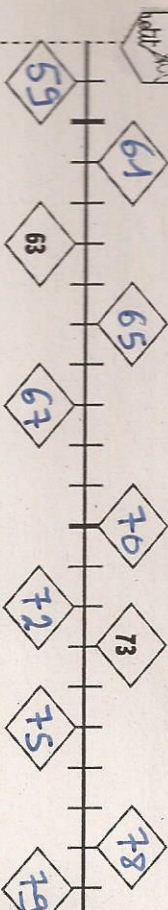
$60 + 16 = 76$	$60 + 12 = \dots$	$60 + 18 = \dots$
$70 + 6 = 76$	$70 + 2 = \dots$	$70 + 8 = \dots$
$60 + 14 = \dots$	$60 + 11 = \dots$	$60 + 15 = \dots$
$70 + 4 = \dots$	$70 + 1 = \dots$	$70 + 5 = \dots$

3 Relie ce qui va ensemble.

soixante-treize	soixante-dix	soixante
soixante-quinze	soixante-dix-huit	soixante-treize
soixante-seize	soixante-douze	soixante-quinze

$60 + 15$ $60 + 10$ $60 + 18$
 $60 + 18$ $60 + 15$ $60 + 15$
 $60 + 13$ $60 + 14$ $60 + 13$
 $60 + 12$ $60 + 13$ $60 + 18$
 $60 + 16$ $60 + 18$ 73

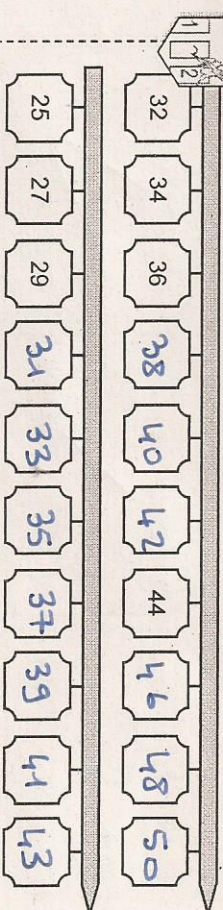
4 Écris le nombre qui convient dans les cases de la bande numérique.



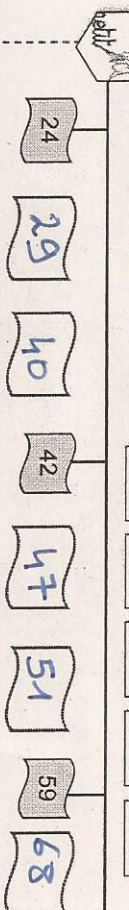
1 Complète chaque case en suivant ce que t'indique la flèche.

27	+10	37	+1	38	+10	48	+1	49	+1	50
18	+1	19	+1	20	+1	21	+10	31	+10	41
34	+1	35	+10	45	+10	55	+10	65	+1	66

2 Complète en comptant de 2 en 2



3 Écris les nombres à leur place.



4 Colorie de la même couleur les cases qui représentent le même nombre

rouge	jaune	bleu	vert	gris
52 + 10	60 + 15	60 + 10	60 + 12	62 + 3
70 + 5	60 + 5	70 + 2	70 + 0	60 + 2
soixante-cinq	soixante-douze	soixante-dix	soixante-deux	soixante-quinze