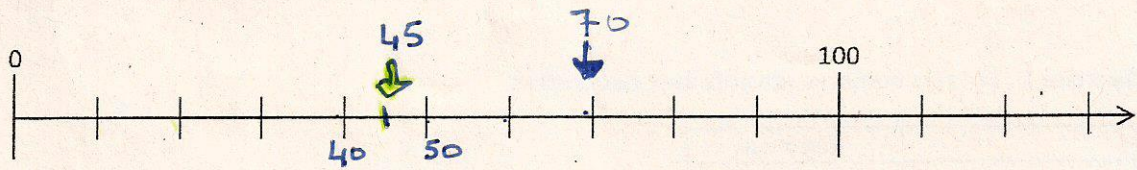


Exercice 4 : Indique par **une flèche bleue** la position du nombre 70 sur la droite graduée et par **une flèche verte** la position du nombre 45.

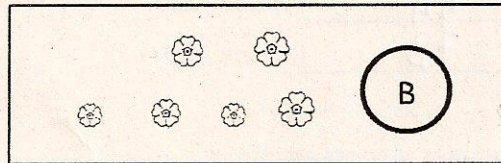


1	9	0	15
1	9	0	16

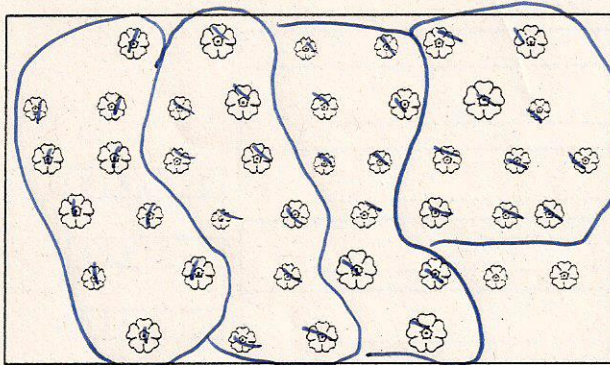
Exercice 5 :

Le dessin **B** représente un bouquet de 10 fleurs.

Compte le nombre total de fleurs dans chaque rectangle et note le comme dans l'exemple

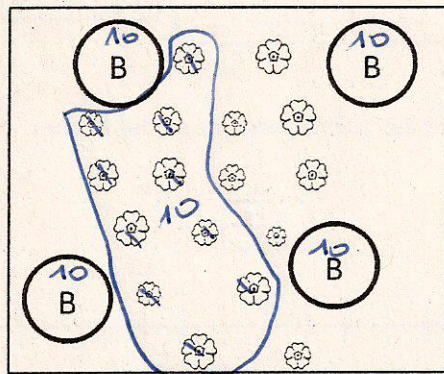


..16.. fleurs



...42... fleurs

1	2	3	9	0	17
---	---	---	---	---	----



...57... fleurs

1	2	3	9	0	18
---	---	---	---	---	----

Exercice 6 : Range du plus petit au plus grand les nombres suivants : 68, 67, 9, 39, 61.

Réponse : 9 < 39 < 61 < 68 < 67

1	9	0	19
---	---	---	----