

Nombres et quantités : de 0 à 80

1 Complète avec le bon nombre :


75

76

69

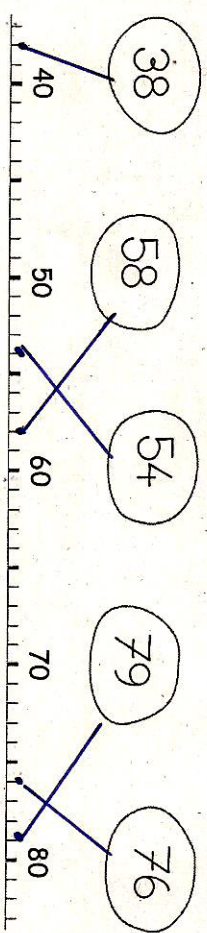
73

2 Complète la bande numérique:



Nombres et quantités : de 0 à 80

1 Relie les nombres à leur place sur la droite graduée



2 Dessine le nombre en barres

16 76 67 71

Nombres et quantités : de 0 à 80

1 Complète avec le bon nombre :


72

56

68

75

2 Complète la bande numérique:



Nombres et quantités : de 0 à 80

1 Complète les cases grises du tableau des nombres

	31		34		37	
40		42		46		49
	52		56			
60		63		65		
	71			77		79

2 Colorie les pièces et billets correspondants à la somme dans la tirelire :

73€

20€ 20€ 10€ 10€ 5€ 5€

50€ 20€ 10€ 5€

50€ 20€ 10€ 5€